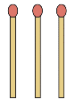
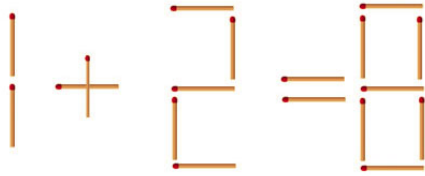


# Rätseln mit Streichhölzern



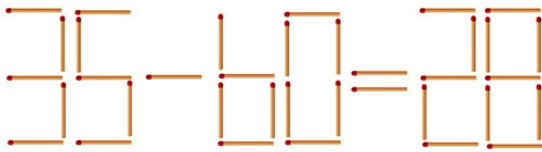
Du brauchst: 1 Packung Streichhölzer oder Zahnstocher

## Rätsel 1



Welches Streichholz muß umgelegt werden, damit die Rechnung korrekt dargestellt wird?

## Rätsel 2



Bei diesem Matherätsel ist einiges durcheinandergeraten. Wenn du zwei Streichhölzer umlegst, ergibt diese Streichholzrätsel wieder einen Sinn. Viel Glück beim Rätseln!


## Rätsel 3

Bei dieser Aufgabe soll die Zahl 30 mit sechs gewöhnlichen Streichhölzern gelegt werden. Wie müssen die Streichhölzer angeordnet werden?



## Rätsel 4

Die untenstehende Abbildung zeigt sechs Quadrate. Es sollen fünf Streichhölzer weggenommen werden - und drei Quadrate sollen übrig bleiben.



## Rätsel 5

In der folgenden Figur darf nur ein Streichholz bewegt werden. Wie kann ein Quadrat gebildet werden?

